



# SMP MUHAMMADIYAH 2 TAMAN

(TERAKREDITASI "A")

Jl. Raya Wonocolo 135 Wonocolo, Sepanjang (61257), Kec. Taman, Kab. Sidoarjo, Jawa Timur  
Telepon : (031) 7881554, 7882216 E-mail : [smpmduta\\_788@yahoo.com](mailto:smpmduta_788@yahoo.com)

## IPA

1. Perhatikan gambar berikut ini!



Sumber: Dok. Kemdikbud

Gambar 7.1 (a) Jalanan Berlumpur, (b) Sepatu Boot, (c) Sepatu Hak Tinggi

Pertanyaan:

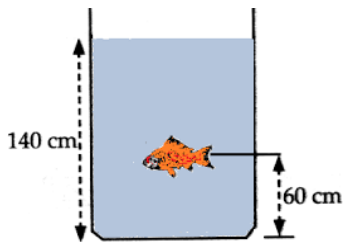
- Ketika Upin dan Kak Rose berjalan di atas tanah liat/ berlumpur, Upin menggunakan sepatu Boot, sedangkan Kak Rose menggunakan sepatu hak tinggi. Sepatu siapakah yang memiliki bekas lebih dalam? Mengapa demikian?
- Faktor-faktor apa sajakah yang mempengaruhi besarnya tekanan?

2. Lengkapilah tabel dibawah ini dengan perhitungan yang benar disertai cara pengerjaannya!

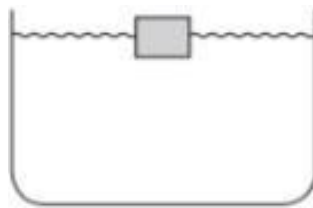
No	Nama Siswa	Gaya (F)	Luas Permukaan (A)	Tekanan (P)
1.	Albert Einstein	135 N	5 m <sup>2</sup>	.....
2.	Isaac Newton	240 N	.....	80 N/m <sup>2</sup>
3.	Aris Toteles	.....	8 m <sup>2</sup>	70 N/m <sup>2</sup>
4.	Antonie van Leeuwenhoek	220 N	10 m <sup>2</sup>	.....

Lalu tentukan manakah siswa yang menghasilkan tekanan terbesar dan terkecil adalah.....

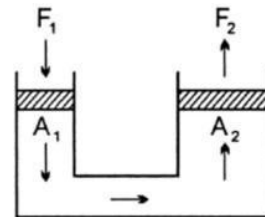
3. Perhatikan gambar berikut !



Gambar 3a

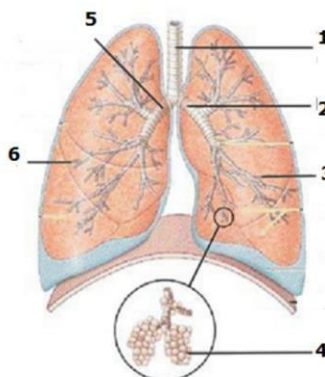


Gambar 3b



Gambar 3c

- Jika massa jenis air 1000 kg/m<sup>3</sup> dan percepatan gravitasi 10 m/s<sup>2</sup>, maka tekanan hidrostatik yang diterima ikan adalah . . .
  - Sebuah kubus yang panjang rusuknya 0,1 m dicelupkan *setengah* kedalam air yang massa jenisnya 1000 kg/m<sup>3</sup>. Jika percepatan gravitasi 10 m/s<sup>2</sup>, maka tentukan gaya angkat keatas yang dialami kubus!
  - Sebuah pompa hidrolik di tempat pencucian mobil dengan skema seperti pada gambar di atas! Jika gaya yang diberikan untuk mengangkat mobil tersebut adalah 50 N dengan luas penampangnya 0,5 m<sup>2</sup> dan luas penampang A<sub>2</sub> sebesar 1,5 m<sup>2</sup>. Dari data yang tertera pada gambar, kita dapat memperoleh F<sub>2</sub> sebesar . . .
- Bagaimanakah mekanisme pernapasan dada manusia pada fase inspirasi dan ekspirasi?
    - Jelaskan 3 penyakit atau kelainan yang dapat mengganggu sistem pernapasan dan cara pencegahannya?
  - Sebutkan bagian-bagian dari paru-paru pada gambar di bawah dan jelaskan fungsinya!





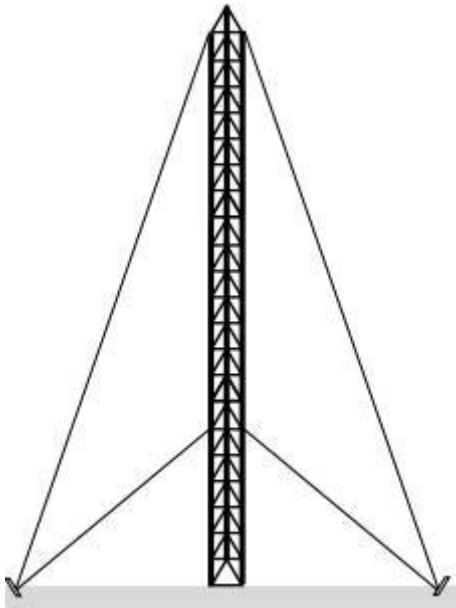
## SMP MUHAMMADIYAH 2 TAMAN

(TERAKREDITASI "A")


Jl. Raya Wonocolo 135 Wonocolo, Sepanjang (61257), Kec. Taman, Kab. Sidoarjo, Jawa Timur  
Telepon : (031) 7881554, 7882216 E-mail : [smpmduta\\_788@yahoo.com](mailto:smpmduta_788@yahoo.com)

### MATEMATIKA

1. Sebuah tower receiver internet setinggi 8 meter didirikan di atas tanah yang permukaannya rata. Agar kuat tower tersebut di kaitkan ke patok di tanah menggunakan kawat baja. Jika panjang kawat dari ujung tower ke patok 10 meter, maka jarak patok dari tower adalah...



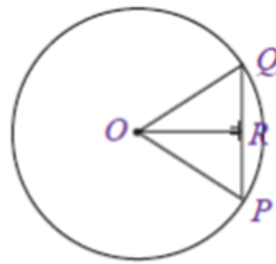
2. Dua pesawat sedang terbang melintasi kapal induk. Suatu radar sejauh 9 km dari kapal induk mendeteksi bahwa posisi kedua pesawat tempur tersebut berjarak 10 km dan 12 km dari radar, seperti gambar berikut. Jarak kedua pesawat tersebut berdasarkan ketinggiannya adalah...



3. Gambarkan unsur-unsur lingkaran! (semua unsur digambar dalam 1 lingkaran)

4. Toko KUE CHIBI menjual dua jenis Kue Tart yaitu Kue Mino dan Kue Miyo dengan ketebalan yang sama namun memiliki ukuran dan harga berbeda. Untuk Kue Mino memiliki ukuran yang lebih kecil, diameter Kue Mino dibuat dengan ukuran 28 cm dan dijual dengan harga Rp 75.000,00. Sementara Kue Miyo adalah jenis kue tart jumbo dengan ukuran 63 cm dan dijual kepada konsumen dengan harga Rp 175.000,00. Jenis Kue Tart manakah yang harus anda beli agar tetap hemat? Tunjukkan perhitungan dan beri alasan!

5. Perhatikan gambar berikut.



Jika jari-jari lingkaran tersebut adalah 10 cm dan panjang apotemanya 8 cm, maka panjang tali busurnya adalah...



MAJELIS PENDIDIKAN DASAR DAN MENENGAH MUHAMMADIYAH CABANG SEPANJANG

## SMP MUHAMMADIYAH 2 TAMAN

(TERAKREDITASI "A")

Jl. Raya Wonocolo 135 Wonocolo, Sepanjang (61257), Kec. Taman, Kab. Sidoarjo, Jawa Timur  
Telepon : (031) 7881554, 7882216 E-mail : [smpmduta.788@yahoo.com](mailto:smpmduta.788@yahoo.com)

### LATIHAN SOAL

#### BAHASA INGGRIS M-ICO

1. Sarah was an Indonesian student who received a scholarship to study abroad in the United States. She had always dreamed of studying abroad and was excited about the opportunity to live in a new country and experience a different culture.

Upon her arrival, Sarah was greeted by the program coordinator and fellow scholarship recipients. They were all from different countries and cultures, but they all shared a passion for learning and making the most of their time abroad. The coordinator took them on a tour of the campus and showed them to their dorm rooms. Sarah was thrilled to see her new home for the next few years.

As a scholarship recipient, Sarah had to maintain a certain grade point average and participate in various community service activities. It was a challenging but rewarding experience, as she was able to learn new skills and make a positive impact on her community. She also had to balance her academic responsibilities with her social life, and she found it helpful to join student organizations and attend cultural events on campus.

Living in a new country was not without its challenges. Sarah had to adapt to a new way of life, including the weather, food, and customs. She also missed her family and friends back home, but she made an effort to keep in touch with them through video calls and social media.

Despite the challenges, Sarah's scholarship experience was one of the best times of her life. She was able to make lifelong friendships, learn new skills, and immerse herself in a new culture. She also felt grateful for the opportunity to receive an education that would not have been possible without the scholarship. As she packed her bags to return home, she knew that she would always cherish the memories and lessons learned during her time as an abroad student with a scholarship.

***Make a conversation between Sarah and her friends or her lecturer. Minimal 10 couple of conversation!***



## SMP MUHAMMADIYAH 2 TAMAN

(TERAKREDITASI "A")

Jl. Raya Wonocolo 135 Wonocolo, Sepanjang (61257), Kec. Taman, Kab. Sidoarjo, Jawa Timur

Telepon : (031) 7881554, 7882216 E-mail : [smpmduta.788@yahoo.com](mailto:smpmduta.788@yahoo.com)

2. *Match the illnesses on left side to the descriptions on right side below!*

No.	ILNESSES	DESCRIPTIONS
1	Cold and Flu	A. These include conditions such as depression, anxiety, bipolar disorder, and schizophrenia. Mental health conditions can cause a wide range of symptoms, including changes in mood, behavior, and cognition.
2	Headache	B. This is a condition that affects the joints, causing pain, stiffness, and swelling. There are many types of arthritis, including osteoarthritis, rheumatoid arthritis, and gout.
3	Gastrointestinal infections	C. Also known as high blood pressure, this condition occurs when the force of blood against the walls of the arteries is too high. Hypertension can lead to heart disease, stroke, and other health problems.
4	Allergies	D. This is a chronic condition in which the body is unable to regulate blood sugar levels, leading to high blood sugar levels. Symptoms of diabetes include increased thirst, frequent urination, fatigue, and blurred vision.
5	Skin condition	E. These include conditions such as acne, eczema, psoriasis, and dermatitis. These conditions can cause redness, itching, and skin irritation.
6	Diabetes	F. These are caused by an overreaction of the immune system to certain substances, such as pollen, dust, or animal dander. Allergies can cause symptoms such as sneezing, runny nose, itchy eyes, and rashes.
7	Hypertension	G. These are bacterial or viral infections that affect the digestive system, causing symptoms such as diarrhea, vomiting, abdominal pain, and fever.
8	Arthritis	H. This is a common symptom of many conditions, including tension headaches, migraines, sinus headaches, and cluster headaches.
9	Mental health conditions	I. These are viral infections that cause symptoms such as coughing, sneezing, runny nose, sore throat, and fever.





# SMP MUHAMMADIYAH 2 TAMAN

(TERAKREDITASI "A")

Jl. Raya Wonocolo 135 Wonocolo, Sepanjang (61257), Kec. Taman, Kab. Sidoarjo, Jawa Timur  
Telepon : (031) 7881554, 7882216 E-mail : [smpmduta\\_788@yahoo.com](mailto:smpmduta_788@yahoo.com)

## LATIHAN SOAL

### BAHASA INGGRIS TAHFIDZ & EXCELLENT

# Present Simple Tense Part 1

Grammar explanation

## Sentence construction in the Present Simple Tense

**affirmative sentence**

I			
You	play		volleyball.
We			football.
They			basketball.
He	plays		the piano.
She			the drums.
It			

**negative sentence**

I			
You	do not don't		volleyball.
We			football.
They		play	
He			the piano.
She	does not doesn't		
It			

**interrogative sentences**

Do	I			
	you	play		volleyball?
	we			football?
they			basketball?	
Does	he	plays		the piano?
	she			the drums?
	it			

When	do	I		
	Where	you	play	volleyball?
		we		football?
they		basketball?		
How	does	he	plays	the piano?
		she		the drums?
		it		

**Rules of forming the 3<sup>rd</sup> person singular:**  
 The verbs in the 3<sup>rd</sup> person singular get **-s** ending. There are some spelling rules you have to learn.

- 1) **Y** changes into **-i** in the end of the verbs if there is a consonant before it.  
 e.g.: try ⇒ tries
- 2) If the verb ends with **-ss, -sh, -ch, -o** or **-x**, it gets **-es** ending in 3<sup>rd</sup> person singular.  
 e.g. : wishes, mixes, matches, watches, misses, goes, does



# SMP MUHAMMADIYAH 2 TAMAN

(TERAKREDITASI "A")

Jl. Raya Wonocolo 135 Wonocolo, Sepanjang (61257), Kec. Taman, Kab. Sidoarjo, Jawa Timur  
 Telepon : (031) 7881554, 7882216 E-mail : [smpmduta\\_788@yahoo.com](mailto:smpmduta_788@yahoo.com)

### 1. Read grammar rules

I		
You	play	
We		the guitar
They		football
She		tennis
He	plays	
It		

### Complete the verbs.

I	..... (eat)	apples every day.
You	..... (sing)	song every day.
We	..... (go)	to school every day.
They	..... (watch)	TV in the evening.
She	..... (like)	animals.
He	..... (collect)	postcards.
It	..... (rain)	in spring.

Spelling. If the verbs ends in O/ CH/ S/ SH it gets ES ending e. g. **goes, watches**

### 2. Choose the correct form of the verb.

- she.....      he .....      it .....      my dad.....  
 Aly .....      Ron.....      the boy.....      my friend.....  
 school .....      the sun .....      it .....      my cousin.....



### 3. Read the sentences and choose correct form.

She **play/ plays** the piano evry day. We **go/ goes** to school from Monday to Friday. My friend **get up/ gets up** at six o'clock. I **get up/ gets up** at half past six. Tim **watch/ watches** Tv in the aternoon. They **go/ goes** to bed at nine o'clock. Amanda **brush/ brushes** her teeth before breakfast. School **start/ starts** at quarter to eight. We **walk/ walks** to school but Donna **take/ takes** the bus to school. My friend **play/ plays** volleyball on Saturday. We **have/ has lunch** at school. I **do/ does** my homework after school. My dad **have/ has** lunch at work. School **finish/ finishes** at quarter past one. Cindy **do/ does** her homework before dinner. They **go/ goes** to sleep at half past nine. It **rain/ rains** in November. The sun **shine/ shines** in summer.





MAJELIS PENDIDIKAN DASAR DAN MENENGAH MUHAMMADIYAH CABANG SEPANJANG

## SMP MUHAMMADIYAH 2 TAMAN

(TERAKREDITASI "A")

Jl. Raya Wonocolo 135 Wonocolo, Sepanjang (61257), Kec. Taman, Kab. Sidoarjo, Jawa Timur  
Telepon : (031) 7881554, 7882216 E-mail : [smpmduta.788@yahoo.com](mailto:smpmduta.788@yahoo.com)

### Latihan Soal

#### UTS IPS KELAS VIII

1. Pendapatan Negara adalah hak pemerintah pusat yang diakui sebagai penambah nilai kekayaan bersih. Pendapatan Negara terdiri atas Penerimaan Perpajakan, Penerimaan Negara Bukan Pajak, dan Penerimaan Hibah. Berdasarkan teks di atas, pilihlah BENAR atau SALAH pada pernyataan di bawah ini!
  - A. Pajak, asuransi dan pegadaian merupakan pendapatan negara
  - B. Penerimaan hibah, perpajakan dan bukan pajak termasuk pendapatan negara
  - C. Pendapatan negara adalah hak pusat diakui sebagai pengurangan nilai kekayaan bersih
  - D. Pendapatan negara terdiri dari asuransi dan penghibahan
2. Permintaan adalah suatu proses dalam meminta sesuatu atau sejumlah barang yang dibeli atau diminta pada suatu harga dan waktu tertentu. Permintaan berkaitan dengan keinginan konsumen akan suatu barang dan jasa yang ingin dipenuhi dan kecenderungan permintaan konsumen akan barang dan jasa tak terbatas. Berdasarkan teks di atas, Jelaskan dampak yang terjadi apabila permintaan suatu barang meningkat!



MAJELIS PENDIDIKAN DASAR DAN MENENGAH MUHAMMADIYAH CABANG SEPANJANG

## SMP MUHAMMADIYAH 2 TAMAN

(TERAKREDITASI "A")

Jl. Raya Wonocolo 135 Wonocolo, Sepanjang (61257), Kec. Taman, Kab. Sidoarjo, Jawa Timur  
Telepon : (031) 7881554, 7882216 E-mail : [smpmduta.788@yahoo.com](mailto:smpmduta.788@yahoo.com)

### KEMUHAMMADIYAHAN

1. Bacalah QS. al-Imran ayat 104 berikut!

Berdasarkan ayat al-Qur'an di atas, jelaskan tujuan didirikannya organisasi Muhammadiyah?

وَلْتَكُنْ مِنْكُمْ أُمَّةٌ يَدْعُونَ إِلَى الْخَيْرِ وَيَأْمُرُونَ بِالْمَعْرُوفِ وَيَنْهَوْنَ عَنِ الْمُنْكَرِ وَأُولَئِكَ هُمُ الْمُفْلِحُونَ ﴿١٠٤﴾

2. Gerakan tajdid Muhammadiyah adalah gerakan pembaharuan keagamaan dan gerakan pemurnian, gerakan tajdid itu di tunjukkan untuk melakukan penyesuaian dengan tuntutan zaman dan perkembangan masyarakat. Kata gerakan itu berarti terus bergerak, atau tidak pernah diam. Muhammadiyah sebagai organisasi dakwah dalam melaksanakan dakwah tidak akan berhenti dalam menegakkan ajaran islam. Dalam melaksanakan Rahmatan Lil alamin, gerakan tajdid Muhammadiyah dilaksanakan dengan 3 bidang utama, yaitu bidang keagamaan, bidang pendidikan dan bidang kesehatan. Tiga bidang ini banyak memberikan sumbangan besar terhadap nasib bangsa Indonesia baik pada awal kemerdekaan sampai saat ini. Dari pernyataan diatas apakah peran dan bagaimana metode dakwah Muhammadiyah yang seharusnya dilakukan agar dapat diterima dan dipahami oleh masyarakat luas?





MAJELIS PENDIDIKAN DASAR DAN MENENGAH MUHAMMADIYAH CABANG SEPANJANG

## SMP MUHAMMADIYAH 2 TAMAN

(TERAKREDITASI "A")

Jl. Raya Wonocolo 135 Wonocolo, Sepanjang (61257), Kec. Taman, Kab. Sidoarjo, Jawa Timur  
Telepon : (031) 7881554, 7882216 E-mail : [smpmduta.788@yahoo.com](mailto:smpmduta.788@yahoo.com)

### LATIHAN SOAL ULANGAN TENGAH SEMESTER 2 (UTS)

**KELAS : VIII**

**PKN**

Jawablah pertanyaan dibawah ini dengan benar!

1. Semangat kebangkitan Nasional tentunya masih tetap relevan dengan ondisi bangsa saat ini. Mari kita jadikan peringatan Hari Kebangkitan Nasional ini sebagai momentum untuk bangkit bersama dari berbagai tantangan yang dihadapi bangsa Indonesia belakangan ini. Tak lupa juga di momen Hari Kebangkitan Nasional ini kita menundukkan kepala sejenak untuk mengenang jasa perjuangan para tokoh bangsa di masa lampau dalam memperjuangkan kemerdekaan bangsa Indonesia. Tanpa mereka saat ini tidak akan merasakan manisnya kebebasan dan kemerdekaan.

Dari bacaan singkat diatas, Jelaskan makna dan arti penting dari Kebangkitan Nasional!

2. Bacalah bacaan singkat dibawah ini!

Ikrar Sumpah Pemuda

“Kami Putra dan putri Indonesia mengaku bertumpah darah yang satu. Tanah air Indonesia”

“Kami putra dan putri Indonesia mengaku berbangsa yang satu, bangsa Indonesia”

“Kamu Putra dan putri Indonesia menjunjung bahsa persatuan, Bahasa Indonesia”

Dari bacaan ikrar Sumpah Pemuda diatas, Jelaskan makna dari satu nusa, satu bangsa, dan satu Bahasa!

“SELAMAT MENGERJAKAN DAN TETAP SEMANGAT DALAM BELAJAR”



# SMP MUHAMMADIYAH 2 TAMAN

(TERAKREDITASI "A")

Jl. Raya Wonocolo 135 Wonocolo, Sepanjang (61257), Kec. Taman, Kab. Sidoarjo, Jawa Timur  
Telepon : (031) 7881554, 7882216 E-mail : [smpmduta\\_788@yahoo.com](mailto:smpmduta_788@yahoo.com)

## PRAKARYA KELAS 8

Nama : .....

Kelas : .....

No. Absen : .....

**Printlah file tugas berikut terlebih dahulu, kemudian kerjakan secara tertulis dan dikumpulkan pada guru mata pelajaran Prakarya !**

- Amatilah produk pangan pada gambar dibawah ini dengan seksama. Perhatikan baik-baik bahan yang digunakan dari ketiga produk pangan tersebut. Mana diantaranya olahan pangan dari bahan setengah jadi dari sereal, kacang-kacangan dan umbi-umbian? Dan termasuk kedalam bentuk jenis olahan pangan apa?



Gambar A

Sumber gambar :

<https://tinyurl.com/y62wk8u6>



Gambar B

Sumber gambar :

<https://tinyurl.com/y26eom3y>



Gambar C

Sumber gambar :

<https://tinyurl.com/yy8jcnct>

Menurut Ananda, manakah produk pangan yang dibuat dari bahan setengah jadi dari sereal, kacang-kacangan dan umbi?

Apakah gambar A dibuat dari bahan pangan setengah jadi dari sereal, kacang-kacangan dan umbi? Mengapa? Jika iya, termasuk kedalam bentuk jenis olahan pangan apa?

.....  
.....  
.....

Apakah gambar B dibuat dari bahan pangan setengah jadi dari sereal, kacang-kacangan dan umbi? Mengapa? Jika iya, termasuk kedalam bentuk jenis olahan pangan apa?

.....  
.....  
.....

Apakah gambar C dibuat dari bahan pangan setengah jadi dari sereal, kacang-kacangan dan umbi? Mengapa? Jika iya, termasuk kedalam bentuk jenis olahan pangan apa?

.....  
.....  
.....



# SMP MUHAMMADIYAH 2 TAMAN

(TERAKREDITASI "A")

Jl. Raya Wonocolo 135 Wonocolo, Sepanjang (61257), Kec. Taman, Kab. Sidoarjo, Jawa Timur  
Telepon : (031) 7881554, 7882216 E-mail : [smpmduta\\_788@yahoo.com](mailto:smpmduta_788@yahoo.com)

## ANALISIS OLAHAN PANGAN BARI BAHAN SETENGAH JADI DARI SEREALIA, KACANG-KACANGAN DAN UMBI

2. pilihlah salah satu produk pangan untuk dianalisis, sebagai contoh dibawah ini adalah gambar produk-produk pangan dari bahan setengah jadi dari bahan sereal, kacang-kacangan dan umbi yang terdapat di rumah maupun dilingkungan tempat tinggal Ananda. Lakukanlah analisis terkait dengan produk, bahan, alat, langkah pembuatan dan penyajian, dengan memilih 1 (satu) gambar produk untuk dianalisis!

1



2



3



4



5



6



Berdasarkan produk pangan/gambar yang telah Ananda amati, lakukanlah pengisian tabel berikut.

Nama Produk Pangan: : .....

Bahan yang digunakan: 1. ....  
2. ....  
3. ....  
4. ....



MAJELIS PENDIDIKAN DASAR DAN MENENGAH MUHAMMADIYAH CABANG SEPANJANG

## SMP MUHAMMADIYAH 2 TAMAN

(TERAKREDITASI "A")

Jl. Raya Wonocolo 135 Wonocolo, Sepanjang (61257), Kec. Taman, Kab. Sidoarjo, Jawa Timur  
Telepon : (031) 7881554, 7882216 E-mail : [smpmduta.788@yahoo.com](mailto:smpmduta.788@yahoo.com)

Alat yang digunakan:

1. ....
2. ....
3. ....
4. ....

Langkah-langkah cara pembuatan:

1. ....
2. ....
3. ....
4. ....
5. ....
6. ....
7. ....
8. ....
9. ....

Penyajian/kemasan  
Produk Pangan:

: .....  
.....  
.....





MAJELIS PENDIDIKAN DASAR DAN MENENGAH MUHAMMADIYAH CABANG SEPANJANG

## SMP MUHAMMADIYAH 2 TAMAN

(TERAKREDITASI "A")

Jl. Raya Wonocolo 135 Wonocolo, Sepanjang (61257), Kec. Taman, Kab. Sidoarjo, Jawa Timur  
Telepon : (031) 7881554, 7882216 E-mail : [smpmduta.788@yahoo.com](mailto:smpmduta.788@yahoo.com)

### PENJASKES KELAS VIII

1. Senam lantai atau gymnastic merupakan cabang olahraga yg di lombakan sampai tingkat international, berikanlah tanggapan tentang apa saja gerakan yang menjadi cirikhas dalam senam lantai ( berikan contoh gerakan dan alasan/penjelasanya, minimal 3 ciri-ciri ) ?
2. Banyak macam gerakan senam lantai yang sulit di kuasai, gerakan apa yang menurut kalian sulit di lakukan dan berikan penjelasanya ?
3. Senam irama merupakan salah satu cara untuk menjaga kebugaran tubuh dengan bergerakan sesuai lantunan musik, menurut kalian gerakan yang paling efektif untuk kebugaran tubuh dalam senam irama apa saja ? ( min 2 beri penjelasan)



MAJELIS PENDIDIKAN DASAR DAN MENENGAH MUHAMMADIYAH CABANG SEPANJANG

## SMP MUHAMMADIYAH 2 TAMAN

(TERAKREDITASI "A")

Jl. Raya Wonocolo 135 Wonocolo, Sepanjang (61257), Kec. Taman, Kab. Sidoarjo, Jawa Timur  
Telepon : (031) 7881554, 7882216 E-mail : [smpmduta.788@yahoo.com](mailto:smpmduta.788@yahoo.com)

### BAHASA INDONESIA

#### BACALAH TEKS DI BAWAH INI

#### Manfaat Jalan Kaki

Masih banyak yang berasumsi bahwa jalan kaki tidak bermanfaat. Padahal, olahraga yang ringan dan murah ini mengandung sejumlah manfaat baik bagi tubuh kita. Menurut sebuah studi yang dikutip dari situs alodokter, berolahraga jalan kaki selama 30 menit ternyata mampu menurunkan resiko penyakit jantung sebanyak 40%. Berdasarkan data tersebut, berarti olahraga jalan kaki dapat memicu jantung untuk terus berdenyut lebih kencang, sehingga jantung pun menguat, dan sirkulasi darah pun kian meningkat.

Setelah itu, berjalan kaki secara teratur juga dapat menurunkan kolesterol dalam tubuh. Hal ini dikarenakan berjalan kaki akan menuntut tubuh bergerak secara konstan yang mengakibatkan lemak dan kolesterol pun akan semakin menurun. Oleh karena itu, biasakanlah berolahraga jalan kaki minimal selama 30 menit. Membiasakan olahraga secara teratur dapat membantu agar tubuh semakin sehat dan terhindar dari serangan jantung serta penyakit yang disebabkan oleh kolesterol.

1. Tentukan struktur teks persuasi di atas!
2. Identifikasi unsur kebahasaan teks persuasi di atas!



MAJELIS PENDIDIKAN DASAR DAN MENENGAH MUHAMMADIYAH CABANG SEPANJANG

## SMP MUHAMMADIYAH 2 TAMAN

(TERAKREDITASI "A")

Jl. Raya Wonocolo 135 Wonocolo, Sepanjang (61257), Kec. Taman, Kab. Sidoarjo, Jawa Timur  
Telepon : (031) 7881554, 7882216 E-mail : [smpmduta\\_788@yahoo.com](mailto:smpmduta_788@yahoo.com)


### SENI BUDAYA

1. Perhatikan gambar berikut!



Gambar tersebut menggambarkan aliran lukis kubisme yang memiliki spirit pada lukisan realisme, apa yang menjadi perbedaan antara lukisan realisme dan kubisme?

2. Perhatikan Gambar berikut!



Surealisme merupakan aliran lukis yang mengambil dari bentuk nyata (kasat mata manusia) yang kemudian dieksplorasi menjadi sebuah gambar fantasi dan memiliki makna dalam dalam setiap semiotik bentuk yang diberikan.

Apa makna dalam lukisan surealisme tersebut?



## SMP MUHAMMADIYAH 2 TAMAN

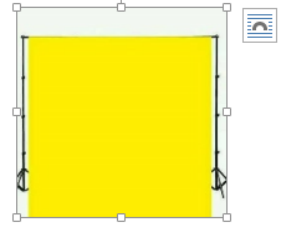
(TERAKREDITASI "A")

Jl. Raya Wonocolo 135 Wonocolo, Sepanjang (61257), Kec. Taman, Kab. Sidoarjo, Jawa Timur  
Telepon : (031) 7881554, 7882216 E-mail : [smpmduta\\_788@yahoo.com](mailto:smpmduta_788@yahoo.com)

1. مَا مَعْنَى فِي هَذِهِ الصُّورَةِ ؟



2. مَا مَعْنَى فِي هَذِهِ الصُّورَةِ ؟



3. تَرْجِمِ إِلَى اللُّغَةِ الْإِنْدُونِيسِيَّةِ !

أ. وَ حَدَائِقُهَا وَاسِعَةٌ وَ مَمْلُوءَةٌ بِالأَشْجَارِ

ب. فِي القَرْيَةِ أَنْعَامٌ مُخْتَلِفَةٌ كَالْعَنَامِ وَ البَقَرِ وَ الجَامُوسِ وَ الدَّجَاجَةِ وَ البَطَّةِ.

ج. الأَشْجَارُ فَائِدَتُهَا كَثِيرَةٌ

د. السَّبُّورَةُ عَلَى الحَائِطِ وَهِيَ بَيْضَاءُ

4. اجْعَلْ جُمْلَةً مِنْ هَذِهِ الكَلِمَةِ ! (Buatlah kalimat dari kata-kata di bawah ini)

أ. الفَلاحُ

ب. مَاهِرَةٌ

ج. السَّبُّورَةُ

5. تَرْجِمِ إِلَى اللُّغَةِ العَرَبِيَّةِ

أ. Pena itu diatas meja guru bewarna hitam

ب. Petani itu kuat dan bersungguh-sungguh

ج. Petani itu menanam sayuran di sawah

د. Sungai itu di samping gubuk, airnya jernih dan sejuk





MAJELIS PENDIDIKAN DASAR DAN MENENGAH MUHAMMADIYAH CABANG SEPANJANG

## SMP MUHAMMADIYAH 2 TAMAN

(TERAKREDITASI "A")

Jl. Raya Wonocolo 135 Wonocolo, Sepanjang (61257), Kec. Taman, Kab. Sidoarjo, Jawa Timur  
Telepon : (031) 7881554, 7882216 E-mail : [smpmduta\\_788@yahoo.com](mailto:smpmduta_788@yahoo.com)

### AL ISLAM

1. Kita hidup didunia ini merupakan ladang amal untuk kehidupan akhirat. karena kita hidup di dunia ini untuk sementara sedangkan kehidupan akhirat kekal selama lamanya. Sebagai guru ataupun murid yang cerdas harus yakin akan hal ini bahwasannya setiap amal saleh yang kita lakukan akan mendapat balasan berupa pahala dari Allah Swt,sekecil apapun amal kita pasti akan ada balasannya dari Allah SWT. Sabda Nabi Muhammad SAW menyebutkan ada tujuh sifat yang dapat merusak amal shaleh, sebutkan minimal tiga kemudian jelaskan sifat-sifat tersebut!
2. Husnudzan artinya berbaik sangka, berbaik sangka dan buruk sangka merupakan bisikan jiwa, yang dapat diwujudkan melalui perilaku yakni ucapan dan perbuatan, pengertian husnudzan juga dapat diartikan sebagai sikap mental terpuji yang mendorong pemiliknya untuk bersikap baik, bertutur kata sopan, berbuat baik dan membawa manfaat bagi orang lain, sehingga dapat dikatakan bahwa husnudzan termasuk kedalam akhlaq terpuji.  
Sebutkan dan jelaskan cara memiliki jiwa husnudzan dalam kehidupan sehari-hari!



## SMP MUHAMMADIYAH 2 TAMAN

(TERAKREDITASI "A")

Jl. Raya Wonocolo 135 Wonocolo, Sepanjang (61257), Kec. Taman, Kab. Sidoarjo, Jawa Timur  
Telepon : (031) 7881554, 7882216 E-mail : [smpmduta.788@yahoo.com](mailto:smpmduta.788@yahoo.com)

### BAHASA JAWA

1. Assalamu'alaikum wr.wb.

Kanthi ngucapaken puji syukur saha nyuwun ridha, tuwin rahmating Gusti Inggang Mahakuwaos (Sing Kuwasa)

Kula sakulawarga badhe ngawontenaken adicara supitan putra kula

Bagus Bayu Aji

Dinten/tanggal: Minggu 27 Februari 2023

Tabuh: 11.00 – 14.00

Awit saking rawuh saha donga pangestu, panjenengan sami, kula ngaturaken agunging panuwun.

Kulawarga Budi – Utami.

a. Layang punika naminipun layang (jenenge serat) .....b. Inggih punika (yaiku) .....c. Layang punika suraosipun (maksudipun) ..... d. Layang punika ndamel basa .....

2. Layang piranti komunikasi lan informasi ingkang efektif damel (kangge) ngintunaken kabar, informasi, pesen, kekarepan, maksud dhumateng tiyang sanes (wong liya).

Wonten jaman sapunika layang kados sampun digantos (diganti) kaliyan wontenipun media sosial, inggih punika HP. Nanging, nyatanipun naminipun layang (serat) tetep mawon tetep dipun damel wonten masyarakat. Serat (layang) dipun bedakaken dados 2 inggih punika layang elektronik kaliyan layang ingkang awujud layang kertas.

Pilihèn B manawi pranyatannipun leres (bener) lan S manawi pranyatanipun boten pas (lepat) utawi salah!

a. Layang (serat) ingkang dipun kintun (dikirim) liwat WA wonten HP saged dipun wastani (diarani) layang (serat) elektronik.

b. Layang ingkang awujud layang kertas sapunika (saiki) sampun (wis) boten dipun damel (wis ora dienggo) wonten ing masyarakat. Awit jamanipun sampun canggih (modern).

c. Layang (serat) ingkang awujud kertas ingkang taksih lumrah dipun damel wonten ing masyarakat inggih layang ulem.

d. Layang ingkang dipun kintun liwat HP dipunwastani serat elektronik. Layang elektronik mesthi kalebet (mesthi keblebu) layang boten resmi.